

TTPP 14 Gramíneas (=Poáceas)

Nombres y apellido:

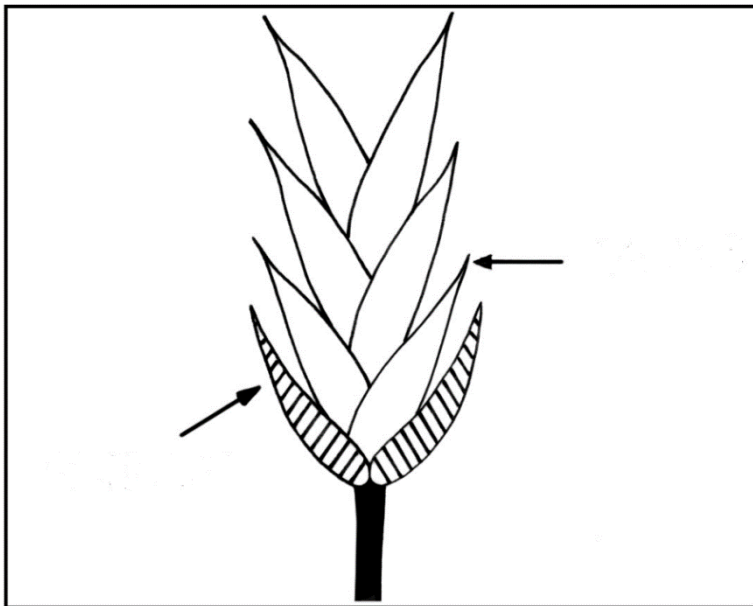
Comisión:

PARTE 2: Sistemática de la Familia Gramíneas (=Poáceas)

Subfamilia Pooideas

1. Tribu Poeas

a) **Observar e indicar** las partes de una espiguilla de *Bromus catharticus* y su nombre vulgar (NV).

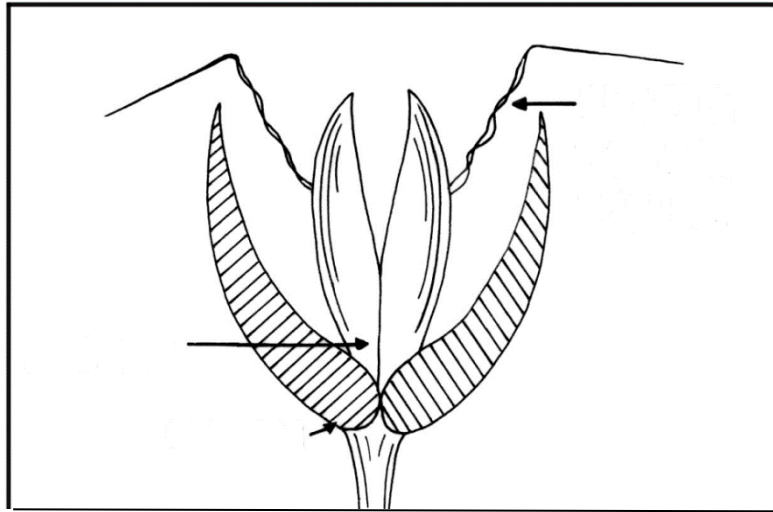


b) **Indicar** tipo de inflorescencia:

c) **Mencionar** los nombres de tres especies de interés agronómico.

2. Tribu Avéneas

a) **Observar e indicar** las partes de una espiguilla de *Avena barbata*, y su N.V.:

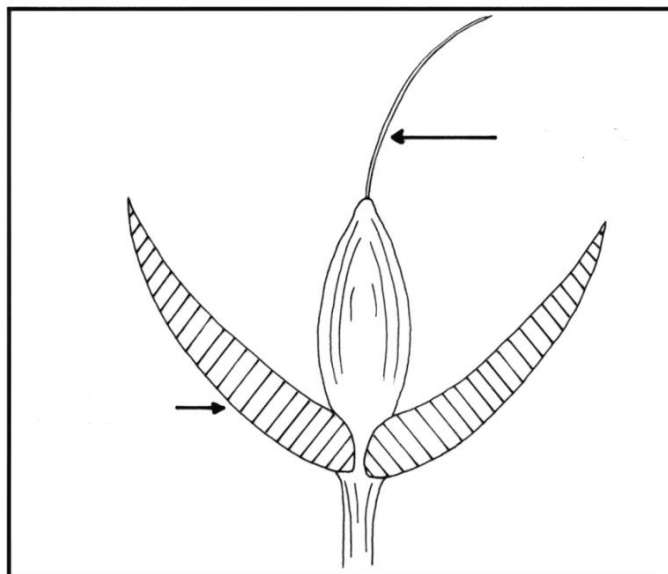


b) **Indicar** tipo de inflorescencia:

c) **Mencionar** los nombres de dos especies de interés agronómico y de una “maleza”.

3. Tribu Estípeas

a) **Observar e indicar** las partes de una espiguilla de *Nassella neesiana* (= *Stipa neesiana*), y su NV.



b) **Señalar** la arista, corona y antopodio (callus).

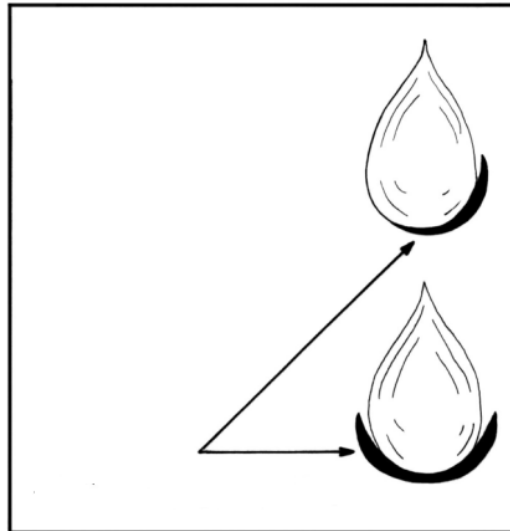
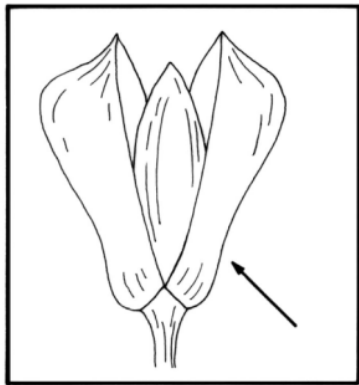


c) **Indicar** tipo de inflorescencia.

d) **Mencionar** el nombre de una especie de interés agronómico.

3. Tribu Falarídeas

a) **Observar e indicar** las partes de una espiguilla de *Phalaris aquatica*, y su N.V.



b) Indicar el tipo de inflorescencia.

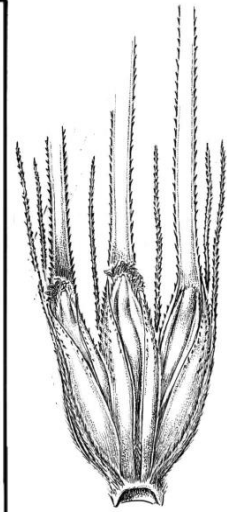
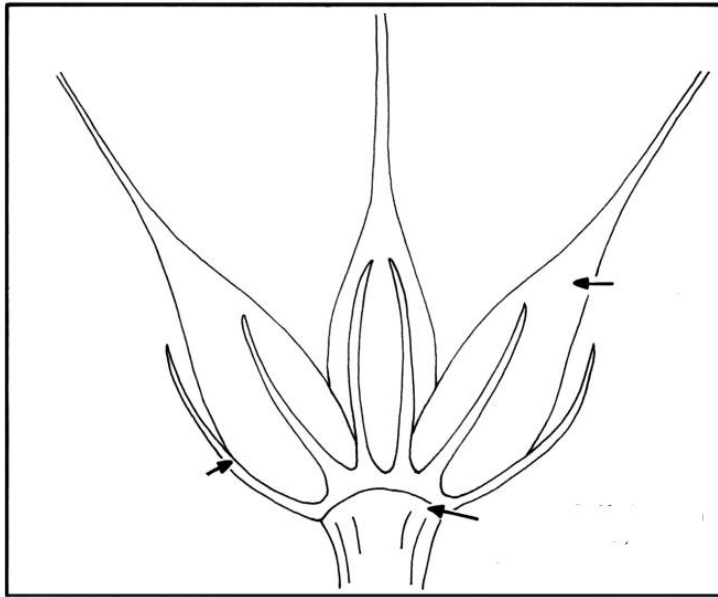
c) Mencionar el nombre de una especie de interés agronómico.

5. Tribu Hórdeas (=Tritíceas)

a) Observar e indicar: número de espiguillas por nudo; número de flores por espiguilla y las características sobresalientes de los géneros *Hordeum*, *Secale* y *Triticum*. Indicar su NV.

Hordeum vulgare

NV:

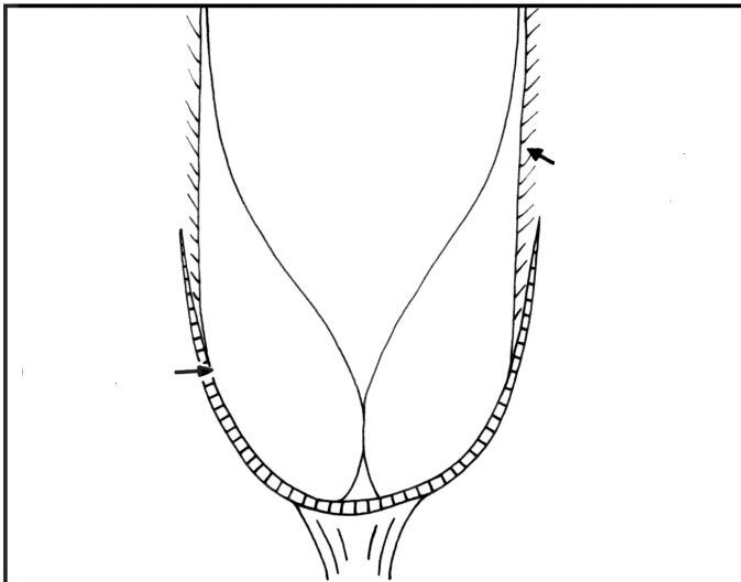


_____ espiguillas _____ flora por nudo

Indicar tipo de inflorescencia.

Secale cereale

NV:


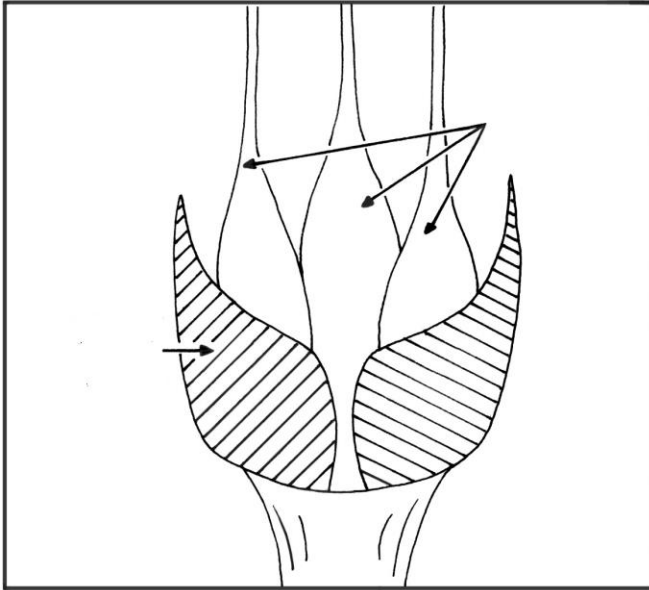


_____ espiguilla _____ flora por nudo

Nota. Hacer zoom en la inflorescencia, para ver la carena pestañosa.

Indicar tipo de inflorescencia

Triticum aestivum NV:



_____ espiguilla _____ flora por nudo


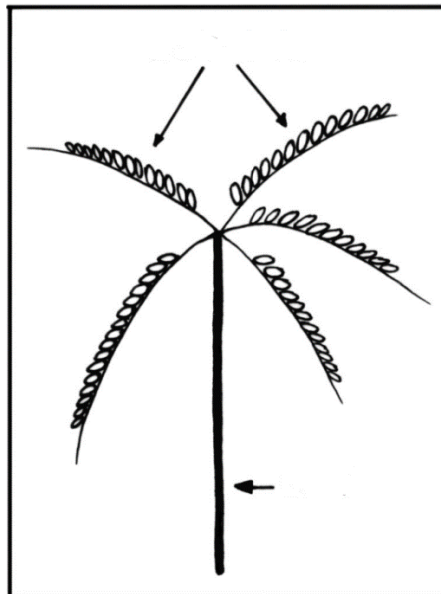
Indicar tipo de inflorescencia.

b) Mencionar los nombres científicos de dos especies de interés agronómico para la Tribu.

Subfamilia Cloridoideas

6. Tribu Clorídeas

a) Observar e indicar las partes de una espiguilla de *Cynodon dactylon*, y su NV:

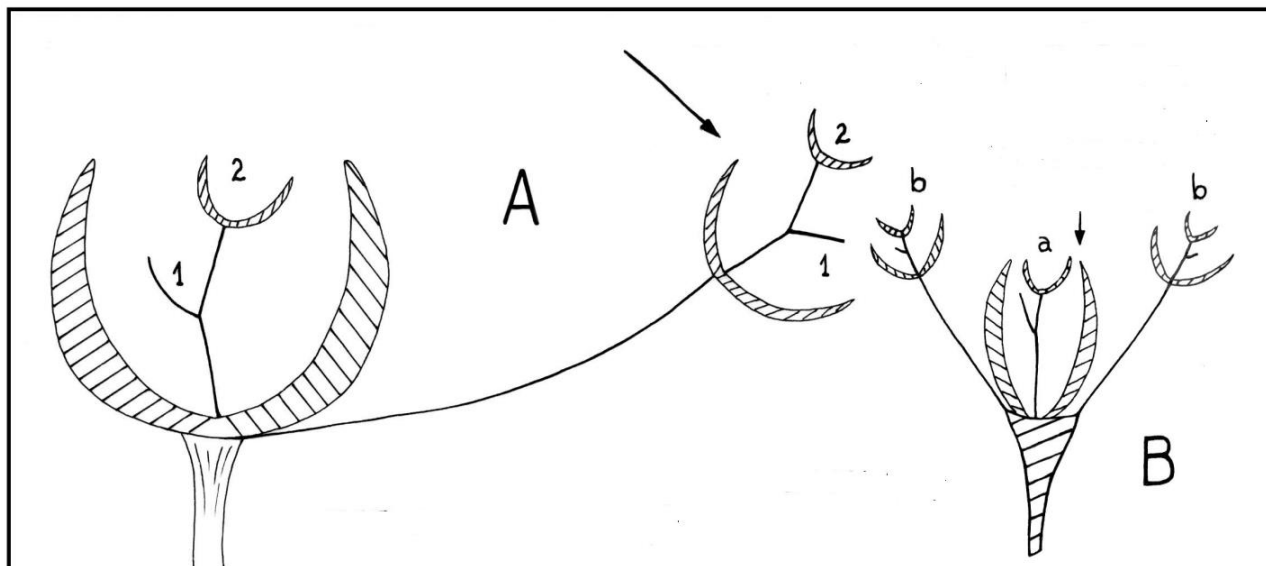


b) Mencionar el nombre de una especie de interés agronómico.

Subfamilia Panicoideas

7. Tribu Andropogóneas

a) **Observar e indicar** nombre vulgar y las partes de una espiguilla de *Sorghum halepense*, y su NV.



A. Espiguilla sésil y pedicelada.

B. Espiguilla sésil y dos pediceladas en la extremidad de las ramitas.

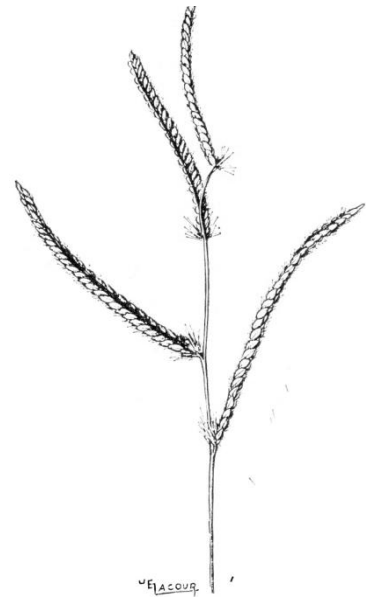
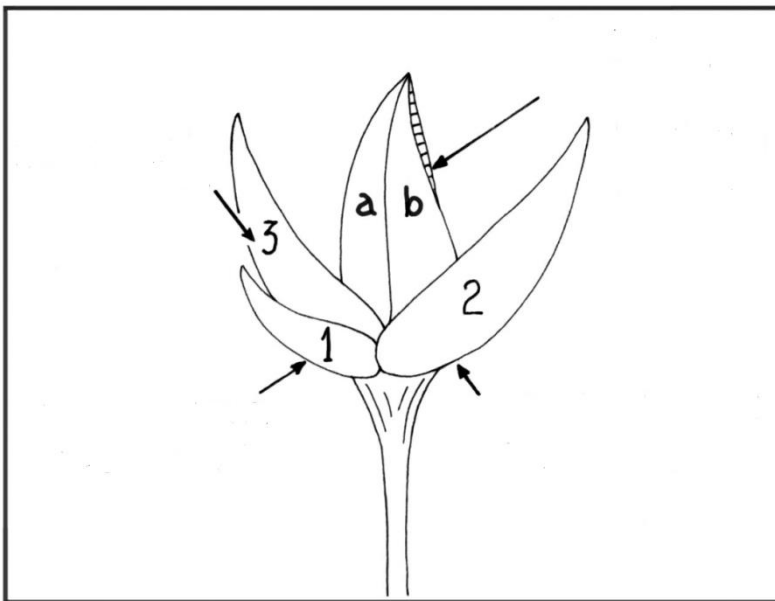


b) **Indicar** tipo de inflorescencia:

c) **Mencionar** los nombres científicos de tres especies de interés agronómico:

8. Tribu Paníceas

a) **Observar e indicar** las partes de una espiguilla de *Paspalum dilatatum*, y su NV:

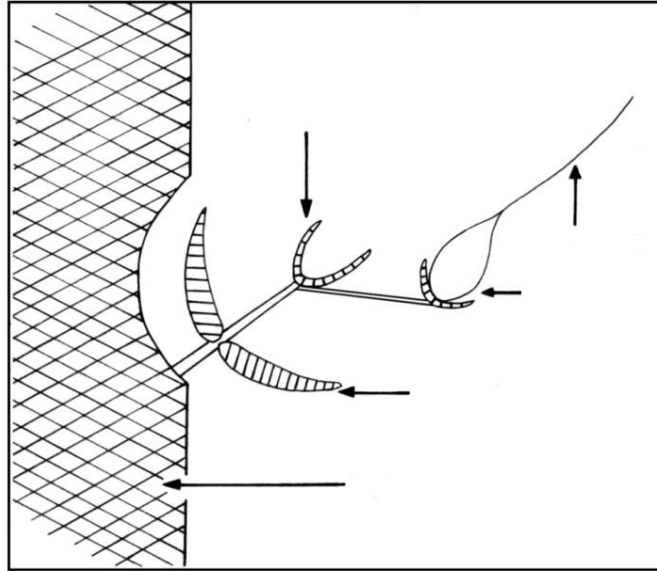


b) **Indicar** tipo de inflorescencia:

c) **Mencionar** los nombres científicos de tres especies de interés agronómico.

8. Tribu Maídeas

a) **Observar e indicar** las partes de una espiguilla de *Zea mays* y su NV.



b) **Indicar** tipos de inflorescencia.

c) **Mencionar** el nombre de una especie de interés agronómico.