

TRABAJO PRÁCTICO Nº 9: ÓRDENES TETRACÍCLICOS DE GINECEO ÍNFERO

Nombre y apellido:

Comisión:

1.- ORDEN RUBIALES

Indicar a qué familia pertenecen las siguientes especies. **Mencionar** los caracteres más importantes de cada familia.

a)



Randia armata

Familia:

Caracteres:

b)



Lonicera japonica

Familia:

Caracteres:

c)



Dipsacus fullonum

Familia:

Caracteres:

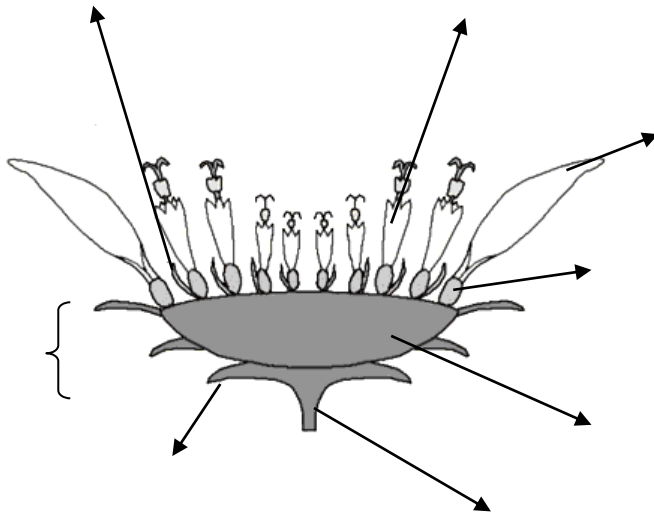
2.- ORDEN CAMPANULALES

Familia Compuestas (= Asteráceas)

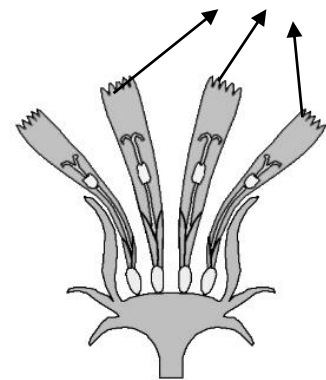
a) Completar los siguientes esquemas:

Capítulos: **indicar** el tipo de capítulo y sus partes.

capítulo

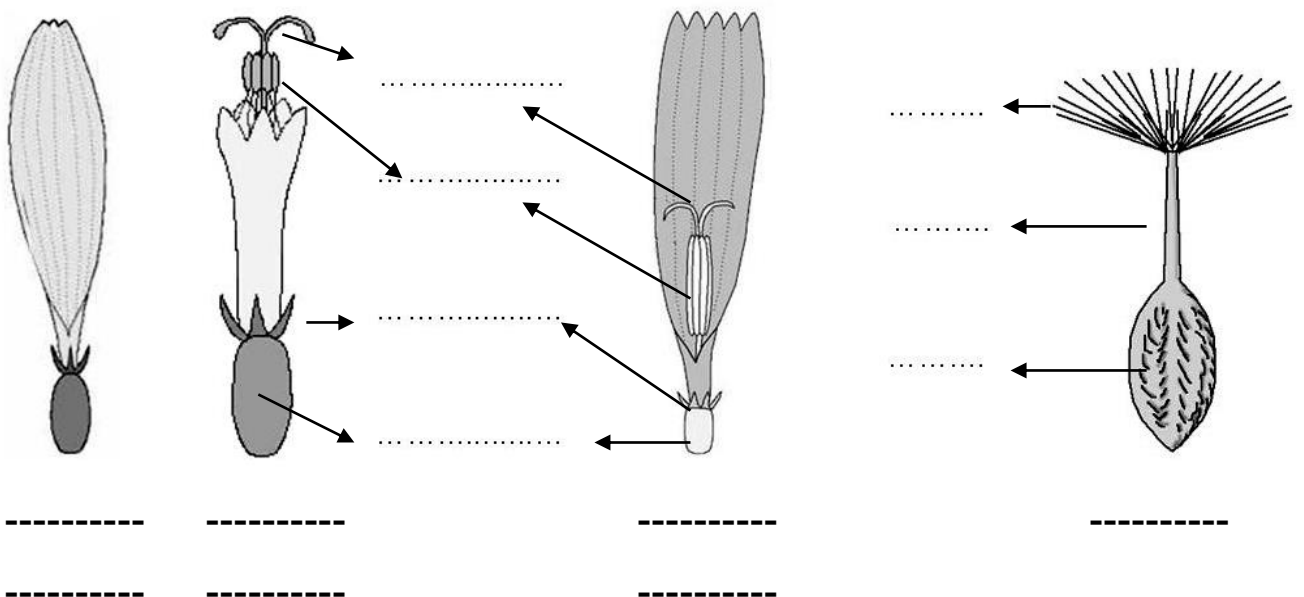


capítulo



- **Flores:** **Indicar** el tipo de corola, sexualidad y sus partes.

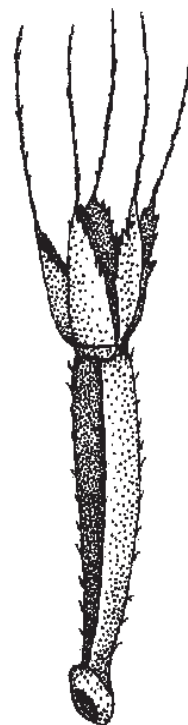
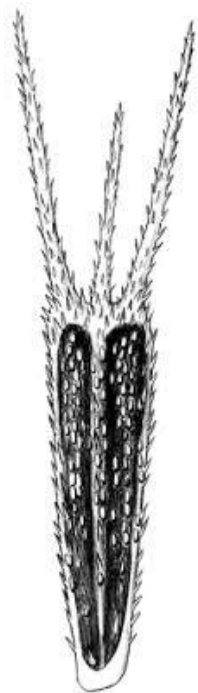
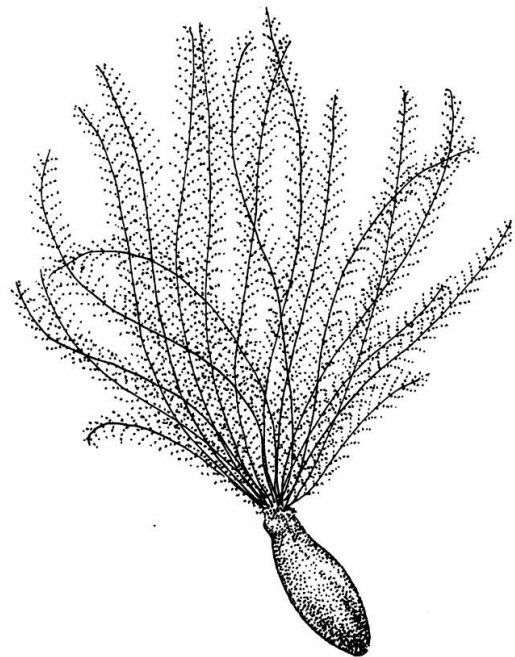
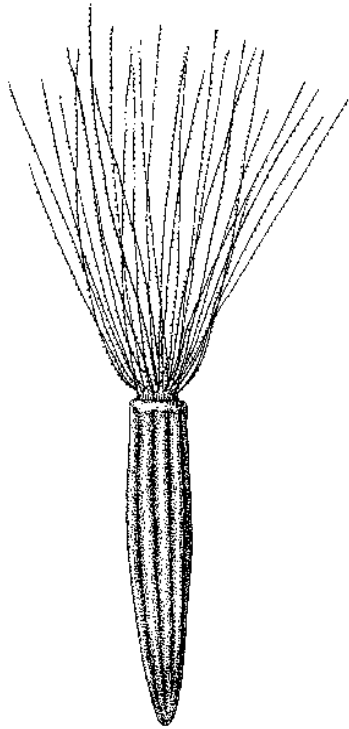
- **Fruto:** **indicar** su nombre y sus partes.



b) Completar el siguiente cuadro:

Subfamilia	Tipos de capítulos	Tipos de corolas	Sexualidad de las flores
	Isomorfos		
	Isomorfos		
	Dimorfos	Flores marginales:	
		Flores centrales:	

c) **Indicar** los distintos tipos de papus.



d) Indicar para cada especie: nombre vulgar, tipo de capítulo, tipos de corolas y subfamilia a la que pertenece.



Taraxacum officinale

Nombre vulgar:

Tipo de capítulo:

Tipos de corolas:

Subfamilia:



Carduus acanthoides

Nombre vulgar:

Tipo de capítulo:

Tipos de corolas:

Subfamilia:



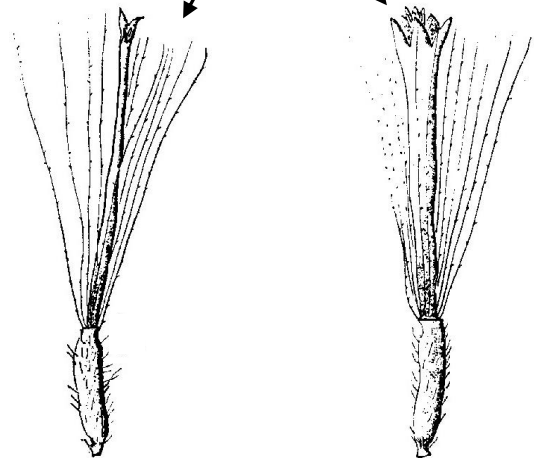
Helianthus annuus

Nombre vulgar:

Tipo de capítulo:

Tipos de corolas:

Subfamilia:



Conyza bonariensis

Nombre vulgar:

Tipo de capítulo:

Tipos de corolas:

Subfamilia:

e) Mencionar 3 especies de Compuestas alimenticias, 3 especies ornamentales y 5 malezas (nombres científico y vulgar).

Alimenticias:

-
-
-

Ornamentales:

-
-
-

Malezas:

-
-
-
-
-